

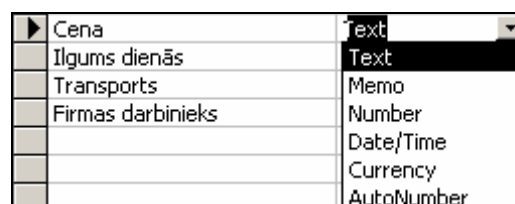
Zināšanu pašpārbaudes tests

Norādīt, kādiem datu tipiem atbilst tabulā dotās lauku vērtības!

1. 10		A Text
2. 10.01.2006.		B Number
3. Itālija		C Currency
4. Ls 130,00		D Date/Time

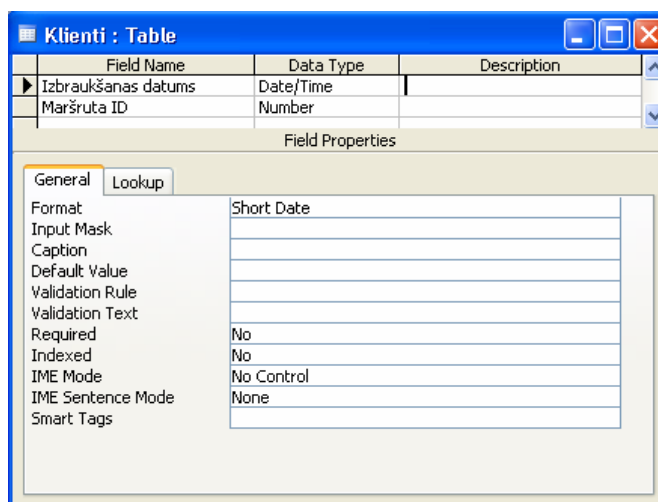
5. Kāds datu tips ir jāizvēlas datu laukam **Cena**, ja tajā tiks ievadīta maršruta cena latos, izmantojot valūtas apzīmējumu?

- A) Text
- B) Number
- C) Date / Time
- D) Currency



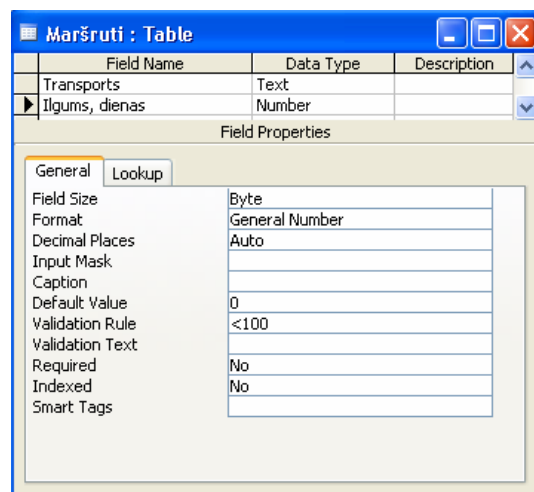
6. Kura no lauka īpašībām dod iespēju mainīt lauka **Izbraukšanas datums** datu formātu?

- A) Format
- B) Default Value
- C) Validation Rule
- D) Indexed



7. Kurš no piedāvātajiem variantiem jāievada rindā **Validation Rule** kā validācijas noteikums, ka ievadīto dienu skaits nedrīkst pārsniegt 49?

- A) <49
- B) >49
- C) dienu skaits nedrīkst būt lielāks par 49
- D) <=49



8. Kādas sekas var būt tam, ja teksta tipa datu laukam samazina izmēru no 30 uz 20?
- A) visos ierakstos ar informāciju datu laukā nekas nenotiks
 - B) visos ierakstos datu laukā tiks dzēsta visa informācija
 - C) visos ierakstos datu laukā simboli, sākot ar 21. (ja tādi ir), tiks dzēsti
 - D) vecie dati netiks mainīti, bet jaunus datus nevarēs ievadīt garākus par 20 simboliem
9. Kāda tipa attiecība (saistība) tiks izveidota attēlotajā situācijā?
- A) vienviennozīmīga
 - B) viendaudznozīmīga
 - C) daudzdaudznozīmīga
 - D) nenoteiktā

