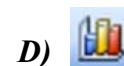

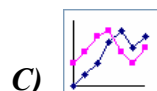
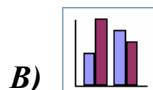



## Zināšanu pašpārbaudes tests

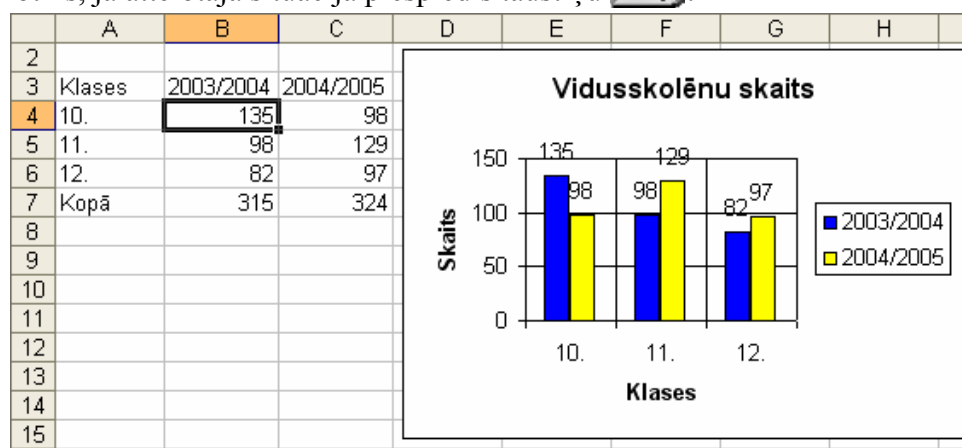
1. Ar kuru pogu var uzsākt diagrammas veidošanu?



2. Kura no attēlotajām ir stabiņu diagramma?



3. Kas notiks, ja attēlotajā situācijā piespiedīs taustiņu ?



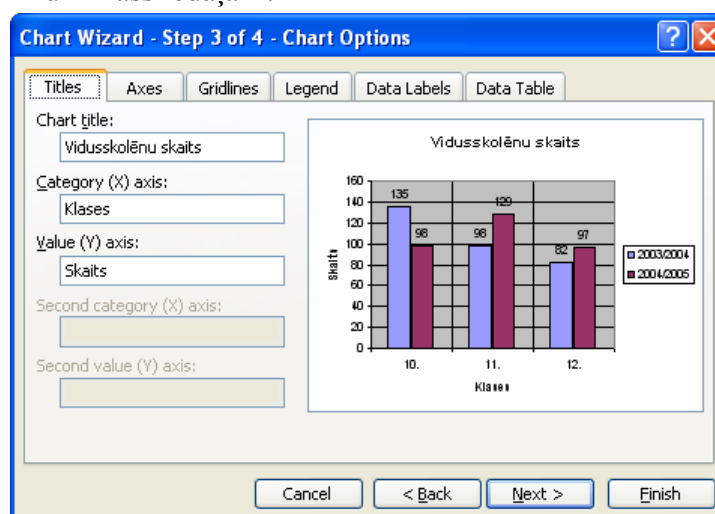
A) tiks dzēsts skaitlis šūnā **B4** un stabiņš, kas šo vērtību attēlo diagrammā

B) tiks dzēsts tikai skaitlis šūnā **B4**, bet diagramma paliks bez izmaiņām

C) tiks uzdots jautājums, vai dzēst datus arī no diagrammas

D) diagrammā tiks dzēsti stabiņi, kas attēlo skolēnu skaitu 2003./2004. mācību gadā

4. Kurā dialoga loga **Chart Options** lapīnā diagrammai var pievienot un noņemt palīglīnijas perpendikulāri X un Y ass iedaļām?



A) Legend

B) Data Labels


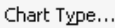
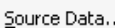




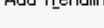
C) Gridlines

D) Axes

5. No cik soļiem sastāv diagrammu veidošanas vednis **Chart Wizard**?

- A) 3
- B) 6
- C) 4
- D) tas atkarīgs no diagrammas tipa

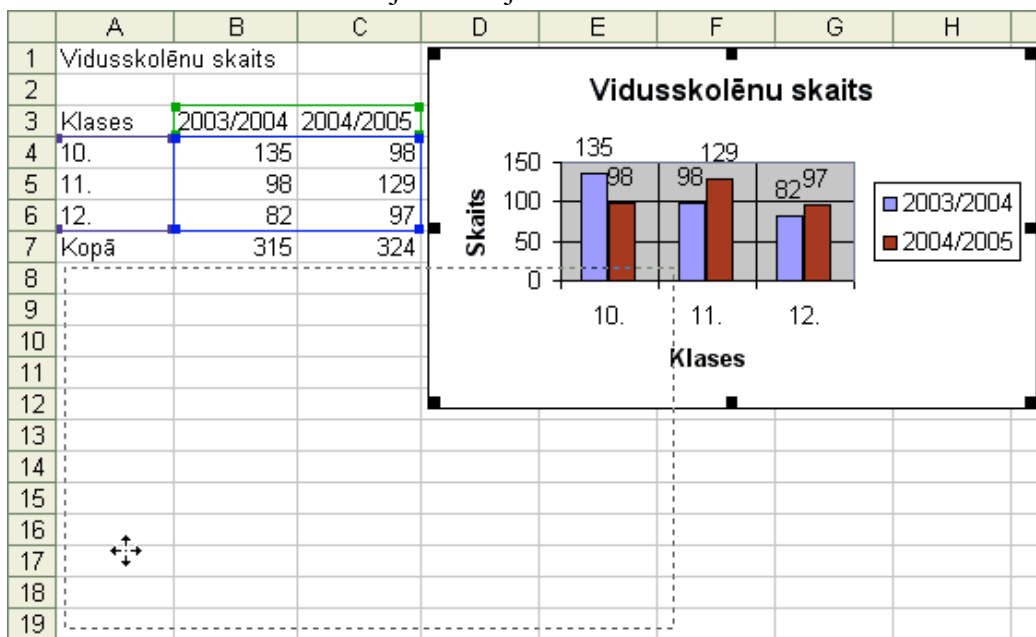
Norādiet uzskaitītajām **Chart** izvēlnes komandām atbilstošās darbības!

6. <b>Chart Type...</b>		A	Diagrammas atrašanās vietas maiņa
7. <b>Source Data...</b>		B	Diagrammas tipa maiņa
8. <b>Chart Options...</b>		C	Datu pievienošana diagrammā
9. <b>Location...</b>		D	Diagrammā attēlojamo datu adrešu maiņa
10. <b>Add Data...</b>		E	Diagrammas noformēšanas elementu maiņa
			
			
			

11. Diagrammas laukuma (**Chart Area**) noformēšanas dialoga logu nevar atvērt:

- A) ar dubultklikšķi uz diagrammas laukuma
- B) ar konteksta komandkartes komandu **Format Chart Area...**
- C) ar komandu **Format / Selected Chart Area...**
- D) ar komandu **Chart / Chart Options...**

12. Kāda darbība tiek veikta attēlotajā situācijā?

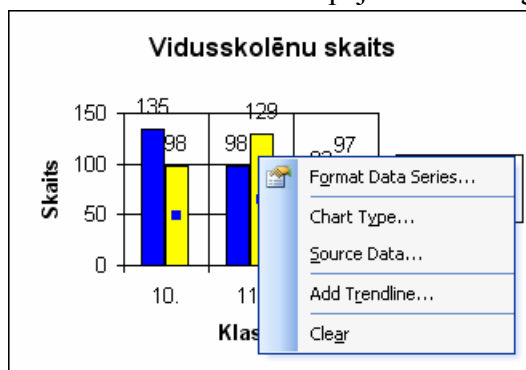


- A) diagrammas izmēra maiņa
- B) diagrammas pārvietošana
- C) jaunas diagrammas veidošana
- D) diagrammas dublēšana

13. Vai jau izveidotai diagrammai var pievienot jaunus datus?

- A) nevar – diagramma jāveido no jauna
- B) var
- C) var, bet tikai tad, ja diagrammā attēlotie dati atrodas citā darblapā
- D) var, bet tikai tad, ja diagrammā attēlotie dati atrodas citā darbrāmā

14. Kura konteksta komandkartes komanda dod iespēju mainīt diagrammas stabiņa krāsu?

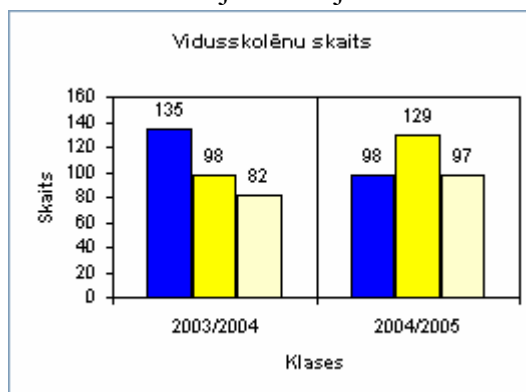


- A) *Format Data Series...*
- B) *Chart Type...*
- C) *Source Data...*
- D) *Clear*

15. Ar kuru diagrammu rīkjoslas **Chart** pogu diagrammai var pievienot vai noņemt leģendu?

- A)
- B)
- C)
- D)

16. Kuras izvēles rūtiņas atzīmētas attēlotajā situācijā?



- |   |  |
|---|--|
| <p>A) <input type="checkbox"/> Major gridlines</p> <p><input type="checkbox"/> Minor gridlines</p> <p>Value (Y) axis</p> <p><input checked="" type="checkbox"/> Major gridlines</p> <p><input type="checkbox"/> Minor gridlines</p> | <p>B) <input checked="" type="checkbox"/> Major gridlines</p> <p><input type="checkbox"/> Minor gridlines</p> <p>Value (Y) axis</p> <p><input checked="" type="checkbox"/> Major gridlines</p> <p><input type="checkbox"/> Minor gridlines</p> |
| <p>C) <input type="checkbox"/> Major gridlines</p> <p><input checked="" type="checkbox"/> Minor gridlines</p> <p>Value (Y) axis</p> <p><input type="checkbox"/> Major gridlines</p> <p><input type="checkbox"/> Minor gridlines</p> | <p>D) <input checked="" type="checkbox"/> Major gridlines</p> <p><input type="checkbox"/> Minor gridlines</p> <p>Value (Y) axis</p> <p><input type="checkbox"/> Major gridlines</p> <p><input type="checkbox"/> Minor gridlines</p>            |